


Vol.5

18-C かさねずけい・ほうこう



きょうのようびに○をつけよう

にち



げつ



か




すい



もく

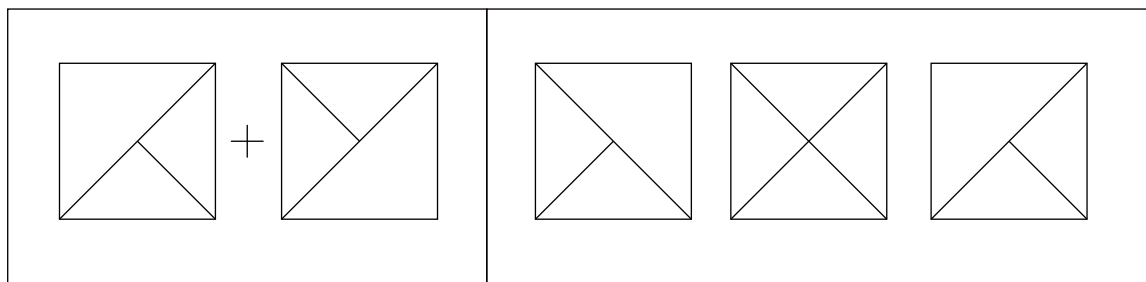
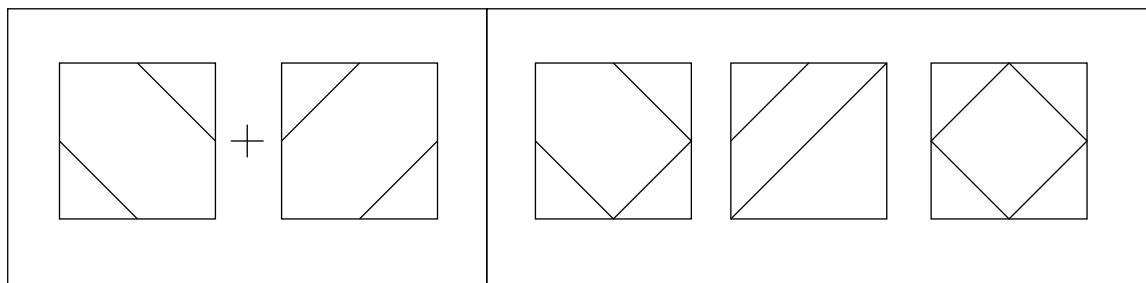
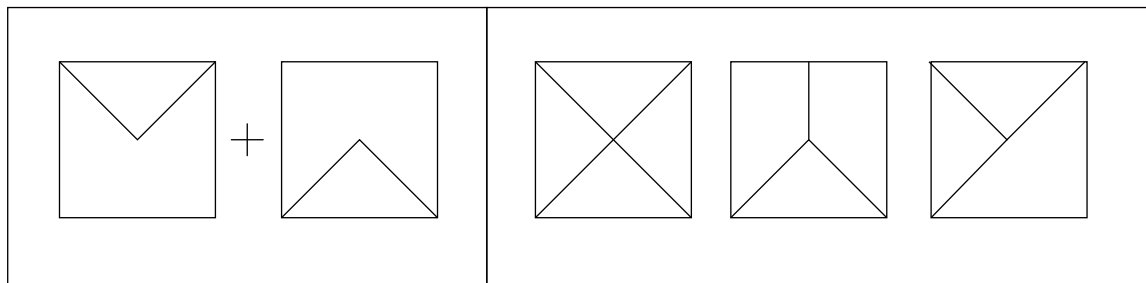


きん



ど

ひだりに、すきとおったかみが2まいあります。
2まいをかさねると、かさなったせんはどんなもようになるでしょう。
みぎの3まいのなかからえらんで○をつけましょう。



うえのつみきをあかいやじるしのほうからみると、
どうようにみえるでしょう。○をつけましょう。

